

## 1. Sosyal Bilgiler dersi:

- I. Toplumun bilgi, kültür ve farkındalık düzeyinin artmasını sağlar.
- II. Temel hak ve hürriyetler ile bunların kullanılmasını öğretir.
- III. Vatandaşlık bilincinin oluşmasını sağlar.
- IV. Kişilerin sorumluluk almaktan kaçınarak, herşeyi devletten beklemelerini öğretir.

**Yukarıdakilerden hangisi Sosyal Bilgiler dersinin kazandırdığı özelliklerden **olamaz**?**

- A) I      B) II      C) III      D) IV

## 2.



Erdem

Günlerdir sokağımızın çöpleri toplanmıyor.



Gökçe

İlgili yerlere bildirelim.

Erdem ve Gökçe:

**Sosyal Bilgiler dersi sayesinde:**

- I. Temel haklarını ve bunların kullanılmasını ile ilgili olarak yapılması gerekenleri öğrenmişlerdir.
- II. Çevresine karşı duyarlı ve aktif vatandaş bilinci kazanmışlardır.
- III. Çevrelerinde meydana gelen olaylara karşı duyarlılık kazanmışlardır.
- IV. Kendi kişisel çıkarları doğrultusunda hareket etmeyi öğrenmişlerdir.

**Yukarıdakilerden hangisini kazanmış **olamazlar**?**

- A) I      B) II      C) III      D) IV

## 3.



Pınar aldığı cep telefonunun bozuk çıkması üzerine aldığı yere telefonu iade eder.

**Pınar Sosyal Bilgiler dersinde hangi konuda bilgi edinmiş ve bu bilgiyi kullanmıştır?**

- A) Dilekçe yazma ve kullanma hakkı  
B) Tüketici hakları  
C) Bilgi edinme hakkı  
D) Şikâyet etme hakkı

## 4.



Ezgi arkadaşlarının düşüncelerine saygı duyar. Farklılıkları zenginlik olarak görür.

**Buna göre Ezgi Sosyal Bilgiler dersinde aşağıdakilerden hangisi öğrenmiş **olamaz**?**

- A) Demokratik yaşam kurallarını  
B) Beraber yaşama, sorumluluk alma ve yardımlaşma  
C) Yakın çevresinin ekonomik faaliyetlerini öğrenerek bunlardan çıkar sağlama  
D) İnsanların birbirlerine karşı olan hak ve sorumluluklarını

5.



Yukarıdaki görsele göre çocuklar Sosyal Bilgiler dersi sayesinde hangi bilinci kazanmışlardır?

- A) Çevresini tanıma
- B) Çevreyi koruma
- C) Çevresine güven duyma
- D) Çevresinde bulunan ekonomik faaliyetleri tanıma

6.



Sosyal Bilgiler dersi sayesinde:

- I. Matbaa ile bilgilerin ve düşüncelerin hızla yayılmadığını
- II. Matbaanın kültürel etkileşimi hızlandırdığını
- III. Matbaa makinesinin nasıl çalıştığını
- IV. Matbaa sayesinde okur-yazar oranının arttığını

Matbaa ile ilgili olarak yukarıdakilerden hangisi öğrenmiş **olamaz**?

- A) I
- B) II
- C) III
- D) IV

7.



Sosyal Bilgiler dersinde öğrendiklerimi uyguluyorum.

Öykü

5. sınıfa giden Öykü Sosyal Bilgiler dersinde öğrendiği hangi bilgiyi uyguluyor **olamaz**?

- A) Vatandaşlık haklarını ve sorumluluklarını
- B) Başkalarının düşüncelerine saygı duymayı
- C) Çevresini temiz tutmayı
- D) Seçimlerde oy kullanmayı

8.

	Faydası	D	Y
I.	Vatandaşlık görev ve sorumlulukları öğretir		
II.	Demokratik yaşam kurallarını öğretir.		
III.	Bilimsel deney yapmayı öğretir.		
IV.	İnsanların birbirlerine karşı ben duygusunu ön plana çıkarmayı öğretir.		

Yukarıda Sosyal Bilgiler dersinin faydaları ile ilgili olarak verilen etkinliğinin cevapları aşağıdakilerden hangisi olacaktır?

- A) D - D - Y - Y
- B) D - Y - Y - D
- C) Y - D - D - D
- D) Y - Y - D - D

1.



Erozyon, yer kabuğunun üzerindeki toprakların, başta akarsular olmak üzere çeşitli dış etkenlerle aşındırılıp yerinden koparılması ve bir başka yere taşınmasıdır.

İç Anadolu bölgemiz erozyon şiddetinin en yüksek olduğu bölgemizdir. Bu durum sadece bu bölgemizde yaşayanları değil tüm ülkemizi etkilemektedir.

**Aşağıdakilerden hangisi bu durumun bir sonucu **olamaz**?**

- A) Orman alanlarının büyük ölçüde tahrip edilmesi.
- B) Tarım alanlarının veriminin azalması.
- C) Geçim sıkıntısı çeken çiftçinin toprağını terk ederek göç etmesi.
- D) Kentlerde gecekondulaşmanın yaşanması.

2. Günlük yaşamda çevremizde yaşanan bazı olaylar sonuçları itibariyle çok boyutludur. Bu sonuçlar olumlu veya olumsuz olabilir.

**Aşağıdakilerden hangisi sonuçları itibariyle diğerlerine göre olumsuz etkisi daha fazladır?**

- A) Yerlere çöp atılması
- B) Çimlere basılması
- C) Orman yangınları
- D) Naylon poşet kullanımı

3. Ordu'da selin yaraları sarılıyor.



Ordu'da meydana gelen sel felaketi köprüleri yıkmış ve ulaşımı olumsuz etkilemiştir. Selden büyük zarar gören tarım arazileri, su basan ev ve iş yerlerinde hasar tespit ve onarım çalışmaları başlatılmıştır.

**Yukarıdaki gazete haberine göre, bölgede:**

- I. Ekonomik kayıplar yaşanmıştır.
- II. Özellikle fındık üreticisi büyük zarar görmüştür.
- III. Selin meydana getirdiği manevi zararlar devlet tarafından karşılanmıştır.

**Yukarıdaki yargılardan hangisine **ulaşmaz**?**

- A) Yalnız I
- B) Yalnız III
- C) Yalnız II
- D) I ve II

4.



Şehrimize yeni bir üniversite açıldı.

**Ayşe'nin yaşadığı şehirde aşağıdakilerden hangisinin olması **beklenemez**?**

- A) Şehrin nüfus sayısı artar.
- B) Şehirde iş olanakları artar.
- C) Şehirden başka yerlere göç yaşanır.
- D) Şehirde kiralar artar.

5. I. Bir olayın birden fazla nedeni olabilir.  
II. Bir olayın nedeni diğer bir olayın sonucu olabilir.  
III. Bir olayın birden çok sonucu olabilir.  
IV. Olayların nedenleri ve sonuçları kontrol altında tutulabilir.

**Yukarıda olaylar hakkında yapılan yorumlardan hangisi doğru bir yorum değildir?**

- A) I      B) II      C) III      D) IV

6. Bir olayın birden fazla sebebi ve sonucu olduğu gibi bir olayın sonucu yalnızca bizi değil birçok kişiyi de etkileyebilir.

**Aşağıda verilen olaylardan hangisinin etkisi diğerlerine göre daha farklıdır?**

- A) Şehre yeni bir fabrika kurulması  
B) Selma'nın sulu boya resim yapması  
C) Bölgede sel felaketinin yaşanması  
D) Ülkede olimpiyat oyunlarının düzenlenmesi

7.



Bir olayın çok boyutluluğu nedir?

- A) Çevremizdeki bir olayın bizi fazlasıyla etkilemesidir.  
B) Her olayın bir ve birden fazla nedeni olabileceği gibi, bir ve birden fazla sonucu da olmasıdır.  
C) Olayların sonuçlarından bazı kişilerin etkilenmesidir.  
D) Olaylara karşı kişilerin verdiği tepkilerin farklı olmasıdır.

8. I. Trafik kazası  
II. Deprem  
III. Savaş

**Yukarıdaki olaylardan hangileri çok boyutludur?**

- A) Yalnız I      B) Yalnız III  
C) I ve II      D) I,II ve III

9.



Tekirdağ'ın Çorlu ilçesinde 8 Temmuz'da meydana gelen kazada yolcu treninin 6 vagonu devrilmiş, kazada 24 kişi hayatını kaybederken 341 kişi de yaralanmıştı. Kazaların bir çok nedeni olduğu gibi bir çok maddi ve manevi sonucu da olabilir.

**Aşağıdakilerden hangisi yaşanan manevi bir sonuç değildir?**

- A) İnsanlarda üzüntü, kaygı ve korku gibi duygular oluşabilir.  
B) İnsanlar hayatını kaybedebilir veya sakat kalabilir.  
C) İnsanlarda o araca karşı güvensizlik oluşabilir.  
D) Uzun süre olayın etkisinde kalınabilir.



1.

Görüşleri, amaçları ve çıkarları bir olan kişiler bütününe "grup" denir. Her öğrenci gruba örnek versin.



Aşağıdaki öğrencilerden hangisi öğretmenin sorusuna **yanlış** cevap vermiştir?

A)

Alışveriş merkezindeki insanlar



B)

İzci kulübü



C)

Akrabalar



D)

Tiyatro grubu



2. Aşağıdaki kurumlardan hangisi ilk katıldığımız gruptur?

A)



B)



C)



D)



3. Aşağıdakilerden hangisi hem grup hem de kuruma örnek olarak gösterilebilir?

- A) Spor takımı
- B) Aile
- C) İzci kulübü
- D) Komşular

4. ★ Sorumluluk duygusunu geliştirir.

▲ Güven duygusu kazandırır.

■ İş yapma beceresi kazandırır.

Sembollerle verilenlerden hangileri dayanışmanın kazanımları arasında gösterilebilir?

A) ★ ve ▲

B) ★ ve ■

C) ▲ ve ■

D) ★, ▲ ve ■

5.



Belirli düşüncelerin, bireyler arasındaki ilişkilerin ve karşılıklı görevlerin oluşturduğu; genellikle devletle ilişkisi olan toplumsal örgütlenmelere "kurum" denir.

Buna göre, aşağıdakilerden hangisi kurum **değildir**?

- A) Aile
- C) Hastane

- B) Okul
- D) Futbol takımı

6.



→ Akrabalar




→ Aile üyeleri



→ Komşular

Yukarıdakilerden hangileri grup oluşturur?

A) Yalnız 

B)  ve 

C)  ve 

D) ,  ve 

7. Aşağıdaki kurumlardan hangisi farklı bir amaca hizmet eder?

A)



Hastane

B)



Sağlık ocağı

C)



Okul

D)



Dispanser

8. • Toplumun en küçük grubu ve kurumudur.  
• Üyeleri arasında sıkı bir dayanışma ve iş birliği vardır.

Verilen bilgiler aşağıdaki kavramlardan hangisi ile ilgilidir?

A)

Okul

B)

Kütüphane

C)

Kulüp

D)

Aile

9. Aşağıdakilerden hangisi aile üyeleri arasında olması gereken özellikler arasında yer almaz?

- A) Hoşgörü  
B) Dayanışma  
C) Bencillik  
D) İş birliği

10.



Görseledeki faaliyetlerde bulunan bir kişi öncelikle aşağıdaki özelliklerden hangisine sahip olmalıdır?

- A) Öfkelenmemelidir.  
B) Araştırmayı sevmelidir.  
C) Hoşgörülü olmalıdır.  
D) Doğayı sevmelidir.

1. Herhangi bir işi yapmada kişinin üzerine düşen göreve ne ad verilir?

- A) Grup
- B) Rol
- C) Kurum
- D) Birey

2.



Arda

Adım Arda. 5. sınıfa gidiyorum. 2 yaşında bir kardeşim var. Futbolu çok seviyorum. Okulda, takım kaptanı seçildim.

Buna göre, Arda yer aldığı gruplarda kaç farklı rol üstlenmiştir?

- A) 1      B) 2      C) 3      D) 4

3. Aşağıdakilerden hangisi, bireylerin evdeki rollerinden biri **değildir**?

- A) Abla      B) Anne  
C) Baba      D) Müdür

4. Aşağıdakilerden hangisi bireylerin toplum içinde üstlendikleri roller arasında **yer almaz**?

- A) Öğrencilik      B) Kişilik  
C) Avukatlık      D) Annelik

5. Toplum içindeki rollerimiz, bulunduğumuz ortamlara göre değişir.

Buna göre, aşağıdaki rollerden hangisi diğerlerinden **farklı** bir özelliğe sahiptir?

- A) Evlat      B) Torun  
C) Abi      D) Oyuncu

6.



Pelin

Sabah kalktım, annemin hazırladığı kahvaltıyı yaptım. Okula gittim. Okuldan sonra arkadaşlarımla oyun oynadık.

Buna göre, aşağıdakilerden hangisi Pelin'in üstlenmiş olduğu rollerden biri **değildir**?

- A) Çocuk      B) Arkadaş  
C) Öğrenci      D) Sınıf başkanı

7. ● Sınıf başkanı  
★ Kaleci  
✿ Abi

Sembollerle verilen rollere sahip olan bir kişinin aşağıdaki gruplardan hangisinde yer aldığı **söylenemez**?

- A) Aile  
B) Sınıf  
C) Futbol takımı  
D) Siyasi parti

8.



5. sınıf öğrencisi Canan

Canan, aşağıdaki rollerin hangisinde **bulunamaz**?

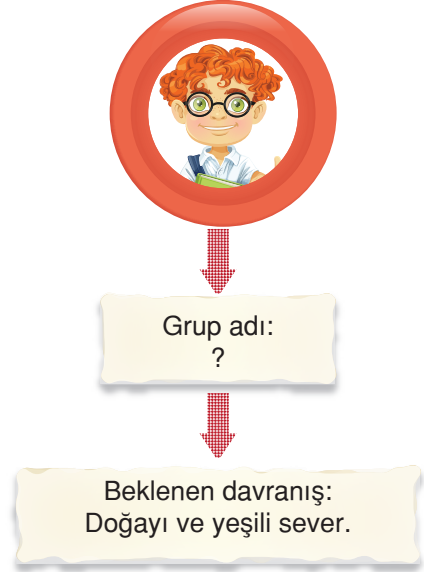
- A) Çocuk  
B) Torun  
C) İşçi  
D) Abla

9. 1. Anne  
2. Arkadaş  
3. Öğrenci  
4. Abla

Numaralandırılarak verilenlerden hangileri toplumun en küçük birimini oluşturan gruba ait roller arasında yer alır?

- A) 1 ve 2  
B) 1 ve 3  
C) 1 ve 4  
D) 1, 2, ve 3

10.



Kavram haritasındaki “?” olan yere aşağıdaki gruplardan hangisi yazılmalıdır?

- A) Okul  
B) Tiyatro kulübü  
C) İzcilik kulübü  
D) Aile

11.

Grup	Rol
Futbol takımı	Kaleci
★	Abi
Müzik grubu	Solist
Sınıf	▲

Eşleştirme gruplarındaki ★ ve ▲ sembollerin olduğu yerlere sırasıyla aşağıdakilerden hangisi yazılmalıdır?


★	▲
A) Okul	İzci
B) Öğretmen	Servis arkadaşları
C) Aile	Başkan
D) Halk oyunları ekibi	Kardeş

1. Aşağıda Çocuk Hakları Sözleşmesi'nin bir maddesiyle ilgili bilgi verilmiştir.

**Madde 1**

Bu sözleşme uyarınca çocuğa uygulanabilecek olan kanuna göre daha erken yaşta reşit olma durumu hariç on sekiz yaşına kadar her insan çocuk sayılır.

Aşağıdaki görsellerin hangisinde Çocuk Hakları Sözleşmesi'ne **aykırı bir durum** vardır?



2. Aşağıdakilerden hangisi **en temel hak** kımızdır?

- A) Sağlık hakkı  
B) Yaşama hakkı  
C) Beslenme hakkı  
D) Barınma hakkı





3.

- 1 Çevreyi kirletenleri uarmak  
2 Belediye otobüslerine indirimli binmek  
3 Ailemizle birlikte güvenli bir evde oturmak  
4 Devletimizin sağlığını koruması için önlemler alması

Numaralandırılarak verilenlerden hangileri haktır?

- A) Yalnız 1  
B) 1 ve 2  
C) 1 ve 4  
D) 2, 3 ve 4

4. Aşağıdakilerden hangisi çocuk haklarından biri **değildir**?

- A)  Çocukların sağlıklı çevrede yaşaması  
B)  Çocukların eğitim görmesi  
C)  Çocukların okul kurallarına uyması  
D)  Çocukların sağlık hizmeti alması



5. Kilosu 4 TL Olan Kapariyi Mayınlı Alanda Topluyorlar



MARDİN'in Nusaybin ilçesinin Suriye sınırındaki mayınlı bölgede "kapari" adı verilen bitki, dar gelirli ailelerin geçim kaynağı oldu.

12 yaşındaki bir kız, "Sabah ve akşam serinliğinde mayınlı bölgeye gidip kapari topluyoruz" dedi.

(Bir gazete haberi)

Yukarıdaki gazete haberindeki F. A. adlı kızın **öncelikli** olarak hangi hakkı aksamıştır?

- A) Sağlık hakkı                      B) Yaşama hakkı  
C) Eğitim hakkı                      D) Çalışma hakkı

6.

Çizgi film izlemeyi severiz.



Oyun oynamayı severiz.

Kitap okumayı severiz.



Yemek yemeyi severiz.

Yukarıdakilerden kaç tanesi dünya çocuklarının ortak özellikleri arasında yer alır?

- A) 1                      B) 2                      C) 3                      D) 4

7. 5 Çocuk Ailelerinden Alındı



DİYARBAKIR Valiliği çocukları çalıştıran ve dilendirerek istismar eden 1500 çocuğun ebeveynlerini yakın takibe aldı. Eğitime ara verenlerin okula gitmeleri sağlanıp ihtiyacı olan ailelere gıda ve yakacak yardımı yapıldı.

(Bir gazete haberi)

Bu bilgilere göre, aşağıdakilerden hangisine **ulaşamaz**?

- A) Çocuk istismarının önüne geçilmiştir.  
B) Çocuk haklarının korunması yolunda kararlı hareket edilmiştir.  
C) Çocukların eğitim hakkına önem verilmiştir.  
D) Çocuk hakları konusundaki tüm sorunlar çözülmüştür.

8. Dünya genelindeki çocuklar için aşağıdakilerden hangisinin söylenmesi uygun **olmaz**?

- A) İlgi görmek isterler.  
B) Sevilmek isterler.  
C) Bir işte çalışmak isterler.  
D) Çizgi film izlemek isterler.